
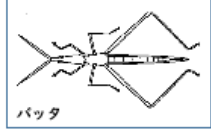

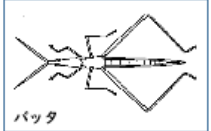






理科③ 【答え・かいせつ】

誤	<p>② 考えてみよう</p> <p>下の絵から、モンシロチョウとバッタのにているところを見つけましょう。</p> <div style="display: flex; justify-content: space-around;"> <div style="text-align: center;">  <p>モンシロチョウ</p> </div> <div style="text-align: center;">  <p>バッタ</p> </div> </div> <p>にているところ</p> <p><u>足が6本ある。(体が三つに分かれている)</u></p>
正	<p>② 考えてみよう</p> <p>下の絵から、モンシロチョウとバッタのにているところを見つけましょう。</p> <div style="display: flex; justify-content: space-around;"> <div style="text-align: center;">  <p>モンシロチョウ</p> </div> <div style="text-align: center;">  <p>バッタ</p> </div> </div> <p>にているところ</p> <p><u>れい：むねに6本のあしがある。</u></p>

理科 お助けプリント③

誤	正
<p>こん虫の体のつくり おぼえていますか</p> <ul style="list-style-type: none"> ・頭 …目、口、しよっ角がついている ・むね…<u>足</u>がついている ・はら…いくつかのふしからできている <div style="display: flex; justify-content: space-around; align-items: center;">  <div style="text-align: center;"> <p>どこが頭かな？</p>  </div> </div> <p>教科書の36ページ、37ページを見てなにかま分けしてみよう。</p>	<p>こん虫の体のつくり おぼえていますか</p> <ul style="list-style-type: none"> ・頭 …目、口、しよっ角がついている ・むね…<u>あし</u>がついている ・はら…いくつかのふしからできている <div style="display: flex; justify-content: space-around; align-items: center;">  <div style="text-align: center;"> <p>どこが頭かな？</p>  </div> </div> <p>教科書の36ページ、37ページを見てなにかま分けしてみよう。</p>